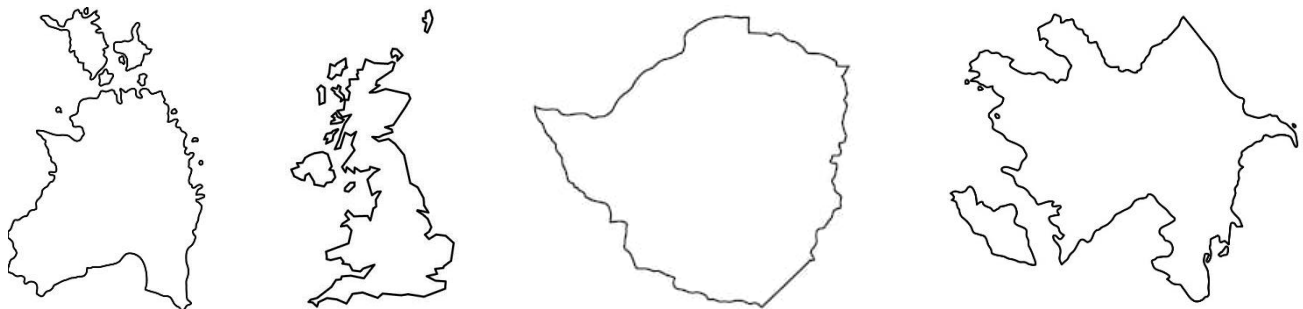


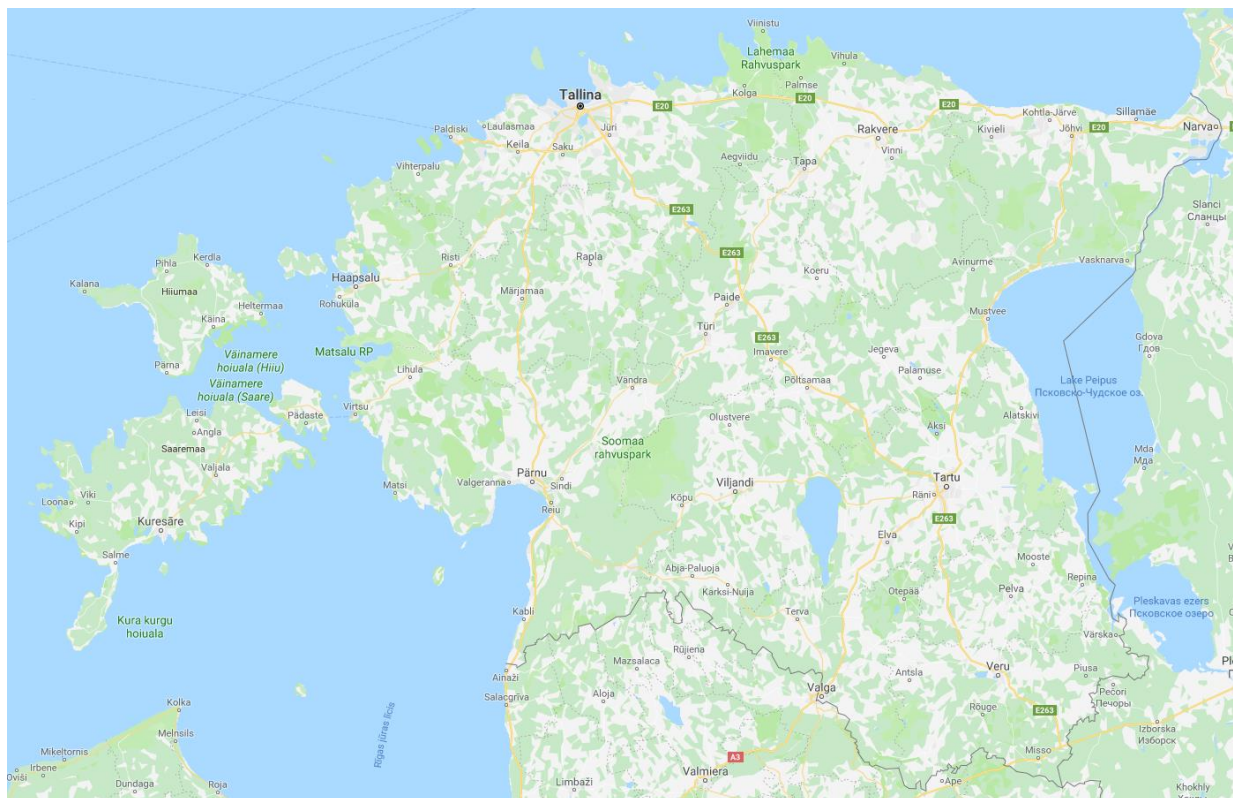
## OTRĀ ATLASĒS ANKETA

# IGAUNIJA

1. Kura no dotajām ir Igaunijas kontūra? Apvelc to uz atzīmē kur atrodas Tallina! (2p)



2. Uzrakstiet šo Igaunijas dabas objektu nosaukumus un atzīmējiet tos kartē (upi ar līniju)! (12p)



A) Garākā upe – \_\_\_\_\_

D) Dziļākais ezers - \_\_\_\_\_

B) Lielākais ezers – \_\_\_\_\_

E) Lielākais purvs – \_\_\_\_\_

C) Lielākais dižakmens - \_\_\_\_\_

F) Augstākā virsotne – \_\_\_\_\_

3. Igaunijai ir daudzas salas jūrā. Ierakstiet tās, kuru nosaukumi sākas ar šiem burtiem! (4p)

**A** \_\_\_\_\_ sala

**M** \_\_\_\_\_ sala

**K** \_\_\_\_\_ sala

**V** \_\_\_\_\_ sala

**4. Iepriekšējā kārtā apskatījām Latvijas pilsētu ģerboņus un manījām, ka tajos bieži ir attēloti augi un dzīvnieki. Līdzīgi ir arī ar Igaunijas pilsētām. Savieno augus un dzīvniekus ar pilsētu nosaukumiem!(8p)**

Āboli	Jōhvi
Balta roze	Kārdla
Briedis	Keila
Egle	Otepää
Gailis	Põlva
Kaija	Türi
Lācis	Võru
Rudzupe	Viljandi

**5. Tabulā ir atzīmēti 5 Igaunijas Nacionālie parki. Pie katra apgalvojuma atzīmē tabulā kuram vai kuriem parkiem tas atbilst, ievērojot krustiņu! (15p)**

	Karula	Lahemaa	Matsalu	Soomaa	Vilsandi
Lielākais nacionālais parks					
Jaunākais nacionālais parks					
Ietver piejūras teritorijas					
Ietver Ramsāras teritoriju					
Ietver kadiķu audzes (alvārus)					
Atrodas nepilnus 50km no Latvijas robežas					

**6. Kā šos objektus sauc igauņi? (6p)**

Akmens - \_\_\_\_\_

Kalns - \_\_\_\_\_

Sala - \_\_\_\_\_

Ezers - \_\_\_\_\_

Purvs - \_\_\_\_\_

Upe - \_\_\_\_\_

7. Igaunijā, tāpat kā Latvijā, ir sastopamas savvaļas orhidejas, un gandrīz visas to sugas ir apdraudētas. Šī iemesla dēļ ir izveidots Igaunijas Orhideju aizsardzības klubs, kas katru gadu izvēlās gada orhideju. Savieno orhideju nosaukumus ar to attēliem un gadiem, kad tās ir bijušas šajā godā. Apvelc to orhideju nosaukumus kuras ir iekļautas Latvijas Sarkanās grāmatas I un II kategorijā! (27p)



Sarkanā cefalantēra  
(*Cephalanthera rubra*)

2010



Trejdaivu koraļlsakne  
(*Corallorhiza trifida*)

2011



Dzeltenā dzegužkurpīte  
(*Cypripedium calceolus*)

2012



Tumšsarkanā dzeguzene  
(*Epipactis atrorubens*)

2013



Vienguma hermīnija  
(*Herminium monorchis*)

2014



Mušu ofrīda  
(*Ophrys insectifera*)

2015



Bruņcepuru dzegužpuķe  
(*Orchis militaris*)

2016



Deguma dzegužpuķe  
(*Orchis ustulata*)



2017



Smaržīgā naktsvijole  
(*Platanthera bifolia*)

2018

### 8. Aizpildi tabulu! (6p)

	Kurai dabas organizācijai pieder šis logo	Kāds dzīvnieks ir attēlots tajā	Vai šis dzīvnieks ir sastopams Latvijā
	<hr/> <hr/>	<hr/> <hr/>	<hr/> <hr/>
	<hr/> <hr/>	<hr/> <hr/>	<hr/> <hr/>

### 9. Tekstā ar treknrakstu ir atzīmēti 2 varianti. Izsvītro nepareizo! (10p)

Eiropas ūdele (***Mustela lutreola*** / ***Mustela vison***) ir visā Eiropā aizsargājama suga, kuru apdraud **invazīvā** / **endēmā** Amerikas ūdele. Abas šīs sugas savstarpēji **parazitē** / **konkurē** par barību un dzīvesvietu. Igaunijā tiek realizēti **Amerikas** / **Eiropas** ūdeles saglabāšanas pasākumi kuru ietvaros vispirms **Vormsi** / **Hiiumā** salā un pēc tam **Saaremaa** / **Ruhnu** salā tiek izķertas Amerikas ūdeles un **reinkarnētas** / **reintroducētas** Eiropas ūdeles. Vietējā suga tiek pavairota Tallinas **dendroloģiskajā** / **zooloģiskajā** dārzā un palaista brīvībā iepriekšminētajās salās. Šim procesam tiek izvēlēti tie īpatņi, kuri savā starpā ir **vismazāk** / **visvairāk** radniecīgi un ir **1 vai 2** / **3 vai 4** gadus veci, to dzīves ilguma dēļ.

**📌 ATBILŽU IESŪTĪŠANAS TERMIŅŠ NO 18. DECEMBRA LĪDZ 15. JANVĀRIM.**

#### ZIŅAS PAR DALĪBNIEKIEM

Komandas nosaukums: \_\_\_\_\_

Skola, klase: \_\_\_\_\_

Komandas kontaktinformācija:

e-pasts: \_\_\_\_\_

Telefona numurs: \_\_\_\_\_

Skolotājs, kontakti: \_\_\_\_\_