



Konkursa "Cielavas gudrības"

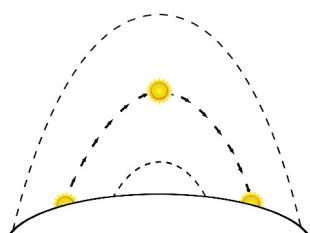
Pirmās spēles atlasē jautājumi „RUDENS”

Dabas apstākļi

1. Uzraksti ne vairāk par piecām pazīmēm, kuras norāda uz rudens iestāšanos dabā!

.....
.....
.....

2. Dotajos attēlos ir redzams saules „ceļš” un dienas un nakts garums dažādos gada mēnešos. Kurā attēlā ir parādīts rudens mēnesis? Vai vari pateikt arī tieši kāds mēnesis?



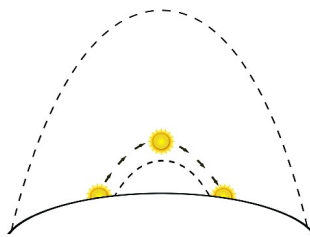
lec 7:06



riet 19:25



1.



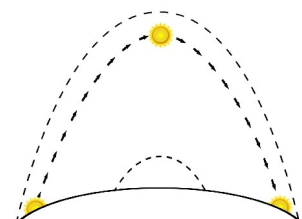
lec 8:42



riet 16:28



2.



lec 5:02



riet 21:57



3.

..... (attēla numurs) attēlā ir atainots rudens mēnesis (mēneša nosaukums)

Augi un sēnes

3. Kādus savvaļas augļus un ogas var ievākt rudenī?

.....
.....
.....

4. Kuriem kokiem ir šīs sēklas vai augļi (mērogs nav ievērots)? Ieraksti atbilstošo nosaukumu zem attēla – bērzs, kļava, egle (priede), goba (vīksna)!



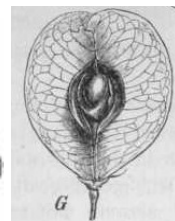
a).....



b).....



c).....



d).....

5. Esam sastādījuši sēņu nosaukumu sarakstu – tikai daži no tiem ir īsti, citi – izdomāti. Apvelc pareizos sēņu nosaukumus!

atmatene; celmenes; grantsbeka; greznuļīte; karotene; lācītis; ledene; naksnene; samtbeka; sēntiņa; smilšbeka; smiltene; sniedzene; stiklene; tīrumene; vasarene; vilcene; zidabeka; ziemene; žodzene

6. Sēnēm ar kātiņu un cepurīti, cepurītes apakšpusē mēdz būt lapiņas, stobriņi vai adatiņas. Savieno atbilstošos – Bērslape, Govju sviestbeka, Kliņģerene!



a)



b)



c)

Dzīvnieki

7. Gaujā, Salacā, Ventā un citās mazākās upītēs, rudenī aktivizējas maluzvejnieki. Uz kādām zivīm viņi cer?

- a. Asariem un ķīšiņiem
- b. Lašiem un taimiņiem
- c. Vimbām un salakām

8. Puse no Latvijas 16 sugu sikspārņiem paliek ziemot pie mums, bet otra puse dodas uz Dienvidiem. Ko viņi tur dara?

.....

9. Ko rudenī dara brūnais varžukrupis?

- a. Nokož sliekām galvas un paslēpj
- b. Migrē uz dienvidiem
- c. Ierokas tuvākā dīķa dūņās
- d. Izrok aliņu ziemošanai

10. Tauriņiem ir četras attīstības stadijas – oliņa, kāpurs, kūniņa un pieaudzis kukainis. Vasaras beigās tauriņi sāk gatavoties ziemai. Dažādi tauriņi pārziemo dažādās attīstības stadijās, piemēram: čemurziežu dižtauriņš pārziemo kā kūniņa, krūķļu baltenis – kā pieaudzis kukainis, mazais salnsprīžmetis – kā oliņa un kārkļu zaigraibenis – kā kāpurs. **Kurš no nosauktajiem tauriņiem ir redzams attēlā?**



.....

11. Kuri no putniem rudenī lido prom, kuri paliek pie mums? Savieno atbilstošos!

- | | |
|--|---|
| <ol style="list-style-type: none"> a. Mazais svilpis b. Sarkanrīklīte c. Stārķis d. Mednis | <ol style="list-style-type: none"> 1. Spānija 2. Indija 3. Latvija 4. Dienvidāfrika |
|--|---|

12. Ko ezis dara rudenī?

- a. Vāc ābolus un sēnes
- b. Intensīvi barojas
- c. Izrok alu

Atbilžu iesūtīšanas termiņš 26. oktobris – 22. novembris

Ziņas par dalībnieku:

Vārds, uzvārds

Skola, klase

E – pasts

Telefons