

PIRMĀ ATLASES ANKETA

LATVIJA

1. Kura no dotajām ir Latvijas kontūra? Apvelc to uz atzīmē kur atrodas Rīga! (2p)



2. Uzrakstiet šo Latvijas dabas objektu nosaukumus un atzīmējiet tos kartē! (12p)



- A) Garākā upe – _____ D) Dziļākais ezers - _____
B) Lielākais ezers pēc platības – _____ E) Lielākais purvs – _____
C) Lielākais ezers pēc tilpuma - _____ F) Augstākā virsotne – _____

3. Latvijai nav salu, kas atrodas jūrā. Toties mums ir salas upēs un ezeros!

Ierakstiet Latvijas salas, kuru nosaukumi sākas ar šiem burtiem! (4p)

C _____ sala

M _____ sala


E _____ sala

Z _____ sala

4. Latviju apskalo Baltijas jūra. Kāds ir piekrastes garums? (15p)

Latvijas piekrastes garums ir _____ km

Vairākas pilsētas atrodas pie jūras. Apvelc šo pilsētu gērbonus!



5. Burtu mikslī ir atrodami dažādu Latvijas aizsargājamo teritoriju: 2 nacionālo parku un 2 dabas rezervātu pilnie nosaukumi, atšifrē tos un pieraksti! (8p)


A A A A Ā B C D E E I L M O R R R S S S S T V Z _____

A A A Ā C E E I I K Ķ L M N N O P R R S S U _____

A A A A A Ā C G I I J K L N N O P R S S S U _____

A A A Ā B D E E K K L N R R R S S S T T U U V Z _____

6. Aplūko dažādu dabas organizāciju logo un pieraksti kādas dzīvās radības tajos ir attēlotas, bet pie biedrībām pieraksti arī ko tās pēta! (9p)



Blank lines for writing answers to question 6.

7. Savieno augu un dzīvnieku attēlus ar teritoriju no kuras tie ir ienākuši Latvijā. Pieraksti to pilnos nosaukumus! (14p)

Amerika



Amerika



Kanāda



Kanāda



Kolorādo



Ķīna



Spānija



8. Lai koku atzītu par valsts nozīmes dižkoku, ir jānomēra tā apkārtmērs 1,3 metru augstumā. Dažādu sugu kokiem, lai kļūtu par dižkokiem, minimālais apkārtmērs ir atšķirīgs. Pieraksti katrai sugai šo apkārtmēru un sakārto kokus dilstošā secībā! (8p)

- | | | |
|--|--|--|
| <input type="checkbox"/> Parastā priede ___ m | <input type="checkbox"/> Āra bērzs ___ m | <input type="checkbox"/> Parastais kadiķis ___ m |
| <input type="checkbox"/> Parastais ozols ___ m | <input type="checkbox"/> Parastā kļava ___ m | <input type="checkbox"/> Parastā egle ___ m |

Kāds ir Latvijas lielākais dižkoks, mērot pēc apkārtmēra?

Latvijas lielākais dižkoks ir _____ ar apkārtmēru _____ m

9. Izkrāso putnu kontūru atbilstoši sugai un savieno ar to raksturojošo vārdu! (9p)


Zidaste



Vālodze



Mednis



Gājputns

Nometnieks

Ziemas viesis

📌 ATBILŽU IESŪTĪŠANAS TERMIŅŠ NO 23. OKTOBRA LĪDZ 20. NOVEMBRIM.

ZIŅAS PAR DALĪBNIEKIEM

Komandas nosaukums: _____

Dalībnieku vārdi, uzvārdi: 1) _____ 2) _____ 3) _____

Skola, klase: _____

Komandas kontaktinformācija:

e-pasts: _____

Telefona numurs: _____

Skolotājs, kontakti: _____